

УТВЕРЖДАЮ
Заместитель председателя оргкомитета
III этапа республиканской олимпиады,
заместитель министра образования
Республики Беларусь



Сидоренко
декабря 2016 г.

ЗАДАНИЯ ПРАКТИЧЕСКОГО ТУРА
для проведения III этапа республиканской олимпиады
по трудовому обучению учащихся учреждений общего среднего,
профессионально-технического и среднего специального образования

девушки
I вариант
САЛФЕТКА



Изготовить салфетку размером 28x28 см.

Срезы обработать швом вподгибку с закрытым срезом, углы выполнить по диагонали.

Салфетку декорировать вышивкой, заполняя силуэт рисунка (контур не вышивать, см. ПРИМЕРНЫЙ рис.) 5 видами украшающих швов.


Швы, длину стежка, сочетание и цвет ниток, а также место расположения декора выбрать самостоятельно.

Уровень сложности и возможные повторы видов швов определить на свое усмотрение.



УТВЕРЖДАЮ

Заместитель председателя оргкомитета
III этапа республиканской олимпиады,
заместитель министра образования
Республики Беларусь



Сидоренко
декабря 2016 г.

ЗАДАНИЯ ТЕОРЕТИЧЕСКОГО ТУРА

для проведения III этапа республиканской олимпиады
по трудовому обучению учащихся учреждений общего среднего,
профессионально-технического и среднего специального образования

девушки
I вариант

Раздел 1

Внимательно прочитай вопрос, обведи кружочком правильный ответ,
используя шариковую ручку.

В предложенных вопросах правильным является лишь один ответ. В
вопросах 4, 7, 11, 16, 19 произведи и запиши расчеты. В вопросах 14, 17, 18,
21 запиши ответ. В вопросе 22 вычеркни лишнее.

*1. Главный источник энергии для организма человека, обеспечивающий
половину общей калорийности рациона, недостаток приводит к
задержке роста и развития, ухудшению памяти:*

- а) минеральные вещества;
- б) витамины;
- в) углеводы;
- г) жиры.

2. В мельхиоровых мисках подают:

- а) холодники и окрошки;
- б) горячие заправочные супы;
- в) молочные и фруктовые супы;
- г) прозрачные бульоны и супы-пюре.

3. Бомбаж – это:

- а) вздутие испорченной консервной банки;
- б) механический способ обработки почвы;
- в) технический прием росписи ткани;
- г) вид французского кружева.

4. Согласно рецепту для приготовления сырников необходимо:

творог 560 г., мука 100 г., сахар 60 г., масло 40 г., сметана 80 г., яйцо 2 шт., соль и ванилин по вкусу – расчет на 4 порции. Сколько потребуется творога для приготовления сырников для семьи из 5 человек?

Расчет запиши:

5. К специям относятся:

- а) лук, чеснок, сельдерей, пастернак, хрен, эстрагон.
- б) гвоздика, имбирь, кардамон, перец черный, перец душистый;
- в) базилик, кориандр, корица, майоран, мята, перец красный, тмин;
- г) петрушка, укроп, лук-порей, зеленый лук, щавель, кинза, сельдерей.

6. В белорусской народной кулинарии продукты, которые украшали блюда и придавали основной вкус и питательность, называются:

- а) приварки;
- б) присмаки;
- в) заколоты;
- г) закрасы.

7. Для приготовления французского лукового супа на 4 порции требуется:

2 средних луковицы, тонко порезанных кружочками, 2 ст. л. масла или маргарина, 400 г. мясного бульона, 120 г. воды, 4 куска поджаренного белого хлеба, немного тертого острого сыра, 4 куска швейцарского сыра.

Рассчитай количество воды для приготовления супа на 6 персон:

8. «Шведский стол» - это:

- а) прием гостей стоя у накрытых столов, к которым не ставят стульев;
- б) самостоятельный выбор блюд и порций гостем с отдельного стола;
- в) обслуживание гостей за общим столом;
- г) закуски и напитки предлагаются официантом на подносе малыми порциями, вместо приборов используются шпажки.

9. Подпишите цифрами очередность при подаче холодных блюд и закусок:

- а) закуски из птицы и дичи;
- б) овощные и грибные закуски;
- в) мясные закуски;
- г) рыбные закуски.

10. Отделочная деталь в виде свободно падающих фалд или складок + называется:

- а) жабо;
- б) буфы;
- в) шлица;
- г) оборка.

11. Рассчитай плотность вязания на спицах по горизонтали: образец шириной 15 см. вмещает 32 петли вместе с кромочными. Расчет запиши:

12. Пряжу «мохер» получают из шерсти:

- а) ламы;
- б) козы;
- в) верблюда;
- г) овцы.

13. Простая по форме повторяющаяся минимальная площадь текстильного рисунка, включающая изобразительный мотив и расстояние до соседнего мотива, называется:

- а) купон;
- б) раппорт;
- в) орнамент;
- г) мотив.

14. Раскладывание припусков швов в разные стороны и закрепление их в таком положении при влажно-тепловой обработке называется ...

15. Номер хлопчатобумажных ниток 80 при заправке швейной машины НЕ подходит для работы с тканями:

- а) синтетическими;
- б) шерстяными;
- в) бельевыми;
- г) тонкими хлопчатобумажными.

16. Определи расход ткани для пошива подростковой простыни: длина 184 см., ширина 125см., ширина ткани 150 см. Расчет запиши:

17. Назовите два основных способа записи ткацких узоров:

- а)
- б)

18. Простое переплетение, отличается тем, что каждая основная нить переплетается с каждой уточной через одну нить. Переплетение обладает малым раппортом: две нити по основе и две нити по утку. Называется ...

19. Определи количество воздушных петель начальной цепочки.

В 12 см. образца 24 столбика, ширина спинки модели 44 см.

Расчет запиши:

20. Японское искусство выращивания миниатюрных деревьев в плоском сосуде называют:

- а) икебана;
- б) бонсаи;
- в) бутоньерка;
- г) бидермейер.

21. ... – вид кружева, которое вяжется вручную с помощью крючка, узор образуется из ажурной сетки с ячейками неправильной формы, на которую крепятся отдельно связанные растительные мотивы.

22. Структура семейного бюджета состоит из двух основных разделов (лишнее вычеркни):

- а) доходов;
- б) баланса;
- в) налогов;
- г) платежей;
- д) расходов;
- е) накоплений.

23. Календарный срок, в течение которого изготовитель (исполнитель, продавец) гарантирует и обеспечивает выполнение предусмотренных нормативно-технической документацией требований к качеству товара, называется:

- а) срок годности (сохранности);
- б) срок службы;
- в) гарантийный срок;
- г) срок возврата.

24. *Краткие автобиографические сведения об образовании, квалификации и профессиональных достижениях при устройстве на работу – это:*

- а) ризотто;
- б) резюме;
- в) рейлинг;
- г) рейтинг.

25. *Конфиденциальность в деловом этикете – это:*

- а) сохранение секретов корпорации или конкретной сделки;
- б) своевременное выполнение поручений и недопустимость опозданий;
- в) любезность и доброжелательность;
- г) наличие необходимых знаний и опыта для эффективной деятельности.

Раздел 2

Реши задачи, оформив ответы на отдельных листах и указав номер задачи.

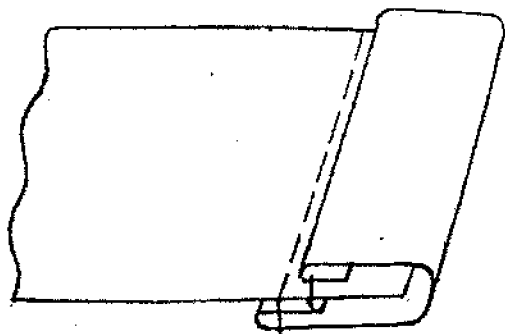
1. Повар готовит блюдо «Спагетти с томатным соусом»: поломал спагетти в соответствии с диаметром кастрюли, выложил в кастрюлю, залил кипятком из чайника и варит. Укажи ошибки повара, ответ обоснуй. Как и с чем можно подавать спагетти?

2. Нижний срез кухонной шторы обработан кружевом. Перечисли последовательность операций. Укажи технические условия и выполни графические изображения.

3. Приготовленный хозяйкой бисквит оказался плотным и малопористым с мучными комками, подгорелой корочкой и рябой поверхностью. Укажи причины таких дефектов. Для чего используются бисквитные коржи?

4. В деловом гардеробе присутствует белая блузка из натурального шелка. Как ухаживать за этим предметом гардероба?

5. Как называется шов, из каких тканей выполняется, с какой целью и в каких изделиях применяется?



БЛАНК ПРАВИЛЬНЫХ ОТВЕТОВ

ЗАДАНИЯ ТЕОРЕТИЧЕСКОГО ТУРА

для проведения III этапа республиканской олимпиады
по трудовому обучению учащихся учреждений общего среднего,
профессионально-технического и среднего специального образования

девушки

I вариант

Раздел 1

Вопросы 4, 7, 11, 16, 19 оцениваются в 2 балла, остальные вопросы
оцениваются в 1 балл. Максимальная сумма 30 баллов.

1в

2б

3а

4 $560 : 4 \times 5 = 700$ г.

5б

6г

7 $120 : 4 \times 6 = 180$ г.

8б

9 1г, 2в, 3а, 4б.

10а

11 $(32 - 2) : 15 = 2$

12б

13б

14 разутюживание

15б

16 $184 + 3 = 187$ см.

17 а) цифровой, б) графический.

18 полотняное

19 $(24:12) \times 44 = 88$

20б

21 гипюр

22 лишнее: б, в, г, е.

23 в

24б

25а

Раздел 2

Ответ оценивается на усмотрение жюри. Рекомендуемая оценка
каждого ответа 1-3 балла. Максимальная сумма 15 баллов.